

Enigme 1 – CP/CE1 La tortue ou l'escargot ?

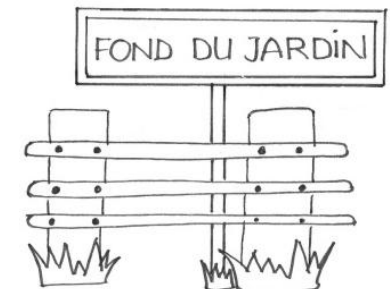





La tortue et l'escargot se disputent sur leur vitesse. Chacun croit qu'il est le plus rapide. Ils décident de faire une course pour connaître le plus rapide : ils doivent aller de la mare jusqu'au fond du jardin. Le gagnant de la course sera celui qui mettra le moins de temps à aller de la mare au fond du jardin.

L'escargot part le matin du 16 mars et arrive au fond du jardin le 3 avril.

Mais la tortue veut d'abord prévenir ses copines de son départ et part 4 jours après l'escargot. Elle arrive au fond du jardin le 5 avril.

Qui a gagné la course ?



Cliquer ici pour
enregistrer la réponse

MARS			AVRIL		
1	D		1	M	
2	L		2	J	
3	M		3	V	
4	M		4	S	
5	J		5	D	
6	V		6	L	
7	S		7	M	
8	D		8	M	
9	L		9	J	
10	M		10	V	
11	M		11	S	
12	J		12	D	
13	V		13	L	
14	S		14	M	
15	D		15	M	
16	L		16	J	
17	M		17	V	
18	M		18	S	
19	J		19	D	
20	V		20	L	
21	S		21	M	
22	D		22	M	
23	L		23	J	
24	M		24	V	
25	M		25	S	
26	J		26	D	
27	V		27	L	
28	S		28	M	
29	D		29	M	
30	L		30	J	
31	M				

MARS			AVRIL		
1	D		1	M	
2	L		2	J	
3	M		3	V	
4	M		4	S	
5	J		5	D	
6	V		6	L	
7	S		7	M	
8	D		8	M	
9	L		9	J	
10	M		10	V	
11	M		11	S	
12	J		12	D	
13	V		13	L	
14	S		14	M	
15	D		15	M	
16	L		16	J	
17	M		17	V	
18	M		18	S	
19	J		19	D	
20	V		20	L	
21	S		21	M	
22	D		22	M	
23	L		23	J	
24	M		24	V	
25	M		25	S	
26	J		26	D	
27	V		27	L	
28	S		28	M	
29	D		29	M	
30	L		30	J	
31	M				

MARS			AVRIL		
1	D		1	M	
2	L		2	J	
3	M		3	V	
4	M		4	S	
5	J		5	D	
6	V		6	L	
7	S		7	M	
8	D		8	M	
9	L		9	J	
10	M		10	V	
11	M		11	S	
12	J		12	D	
13	V		13	L	
14	S		14	M	
15	D		15	M	
16	L		16	J	
17	M		17	V	
18	M		18	S	
19	J		19	D	
20	V		20	L	
21	S		21	M	
22	D		22	M	
23	L		23	J	
24	M		24	V	
25	M		25	S	
26	J		26	D	
27	V		27	L	
28	S		28	M	
29	D		29	M	
30	L		30	J	
31	M				