




Enigme 4 – Cycle 3 Niveau 2

La pyramide de Khéops



Il y a 5000 ans, les égyptiens écrivaient les nombres en utilisant des hiéroglyphes.

Le bâton | représentait une unité, les autres hiéroglyphes représentaient chacun un multiple de dix :

 représentait une dizaine,
  représentait un millier
 représentait un million.



Par exemple, le nombre **423 012** s'écrivait



représente le nombre de blocs de pierre utilisés pour construire la pyramide de Khéops.

Quel est ce nombre ?

Clique sur la pyramide pour saisir la réponse de ton groupe