

Enigme 2 – Cycle 2 Niveau 1 Nombres égyptiens






Il y a 5000 ans, les égyptiens écrivaient les nombres en utilisant des hiéroglyphes.

Le bâton | représentait une unité.

L'anse du panier peut contenir 10 objets donc  représentait une dizaine.

A quels nombres arabes correspondent les écritures égyptiennes suivantes ?

A 	B 	C 
---	--	---

Cliquez sur le Sphinx pour répondre

